

Задания для участников 7-х классов

Инструкция по выполнению работ

Время на выполнение работы – 90 минут.

Максимальное количество баллов – 93.

Уважаемый участник!

При выполнении работы внимательно читайте текст заданий. Содержание ответа вписывайте в отведённые поля, записи ведите чётко и разборчиво.

За каждый правильный ответ Вы можете получить определённое членами жюри количество баллов, но не выше указанной максимальной оценки. Сумма набранных баллов за все решённые вопросы – итог Вашей работы.

Задания считаются выполненными, если Вы вовремя сдали их членам жюри.

Желаем успеха!

Шифр ИИ 12. И 7. 11

315.

Задание 1. Выберите правильный ответ. Ответ внесите в таблицу.

1.1. Укажите название документа, в котором содержится данный закон.

«Кто опознает своего украденного холопа и задержит его, тому вести этого холопа до третьей очной ставки покупщика с продавцом; <...> про него нельзя сказать не знаю, у кого купил, но по его указаниям должно идти до последнего ответчика, – и когда будет найден настоящий вор, краденого холопа возратить его хозяину, третьему ответчику взять своего холопа, а убытки ему плати уличенный в краже. А князю платить 12 гривен продажи (штрафа) за покражу холопа».

- | | |
|-----------------------|----------------------|
| 1) Русская Правда; | 2) Судебник 1497 г.; |
| 3) Салическая Правда; | 4) Законы Хаммурапи. |

1.2. В каком году произошли описанные события?

«Хочу вам, братья, поведать о новой победе в битве, как на Дону случилась брань великого князя Дмитрия Ивановича и всех православных христиан с поганым Мамаем и с безбожными язычниками. И возвысил Бог род христианский, а поганных унизил и посрамил их дикость, как и в старые времена помог Гедеону над мадиамлянами и преславному Моисею над фараоном...»

- | | | | |
|-------------|-------------|-------------|------------|
| 1) 1223 г.; | 2) 1238 г.; | 3) 1380 г.; | 4) 1480 г. |
|-------------|-------------|-------------|------------|

1.3. Кто является автором произведения, отрывок из которого приведён ниже?

«Кому, однако, как не Глупости, больше подобает явиться трубачом собственной славы и самой себе подыгрывать на флейте? Кто может лучше изобразить меня, нежели я сама? Разве что тот, кому я известна ближе, нежели себе самой!»

- | | |
|-----------------------|-------------------------|
| 1) Джованни Боккаччо; | 2) Эразм Роттердамский; |
| 3) Фома Аквинский; | 4) Данте Алигьери. |

1.4. Прочитайте текст и укажите, как называется произведение древнерусской литературы, в котором содержались приведенные сведения.

«Также и эти славяне пришли и сели по Днепру и назвались полянами, а другие – древлянами, потому что сели в лесах, а еще другие сели между Припятью и Двиною и назвались полочанами, по речке, впадающей в Двину, по имени Полота, от нее и получили название полочане. Те же славяне, которые сели около озера Ильмена, прозвались своим именем – славянами, и построили город, и назвали его Новгородом».

- | | |
|----------------------------------|----------------------------|
| 1) «Поучение детям»; | 2) «Житие Бориса и Глеба»; |
| 3) «Слово о Законе и Благодати»; | 4) «Повесть временных лет» |

1.5. Кто автор данного письма?

«Вы, король Англии, и вы, герцог Бедфордский, именуящий себя регентом французского королевства, окажите справедливость королю неба: отдайте деве, посланной сюда Богом, небесным королём, ключи всех добрых городов, которые вы взяли и подвергли насилию во Франции. Она пришла сюда от Бога, чтобы потребовать обратно королевскую кровь...»

- 1) Жанна д'Арк; 2) Софья Палеолог;
3) Алиенора Аквитанская; 4) Матильда Каносская

Ответы:

1.1 ✓	1.2 —	1.3 —	1.4 —	1.5 ✓
1	2	1	3	1

48. Критерии оценивания: за каждый верный ответ - 2 балла, всего - 10 баллов.

Задание 2. Выберите несколько правильных вариантов ответов на каждый поставленный вопрос. Ответ внесите в таблицу.

2.1. Кто из указанных деятелей культуры жил в эпоху Возрождения?

- 1) Данте Алигьери; 2) Леонардо да Винчи; 3) Сафоний Рязанец;
4) Франческо Петрарка; 5) Фидий; 6) Аристотель.

2.2. Какие из представленных ниже категорий населения, перечисленных в «Русской Правде», относятся к зависимым?

- 1) закупы; 2) рядовичи; 3) огнищане; 4) холопы; 5) люди; 6) бояре.

2.3. Выберите из предложенного перечня события, относящиеся к XIII в.

- 1) создание «Правды» Ярославичей; 2) Ледовое побоище;
3) первое летописное упоминание о Москве; 4) Невская битва;
5) съезд князей в Любече; 6) Битва на реке Сить.

Ответы:

2.1 25	2.2 35	2.3 25
2 4 5	1 2 4	3 2 4

70. Критерии оценивания: за каждый верный ответ - 3 балла, за ответ с одной ошибкой (не указан один из верных ответов или наряду с указанными всеми верными ответами приводится один неверный) - 1 балл, всего - 9 баллов.

Задание 3. Что с исторической точки зрения объединяет перечисленные в ряду элементы? Дайте максимально точный ответ.

3.1. Архангельский собор, церковь Ризоположения, Успенский собор, Грановитая палата

Ответ:

3.2. 907 г., 911 г., 944 г., 971 г.

Ответ:

3.3. 1478 г., 1485 г.; 1510 г., 1514 г.

Ответ:

Критерии оценивания: за каждый верный ответ - 3 балла, всего - 9 баллов.

Задание 4. Выберите лишний элемент из предложенного списка и поясните свой выбор.

4.1. 972–980 гг., 1015–1019 гг., 1073–1076 гг., 1113–1125 гг.

Ответ:

4.2. 1016 г., 1072 г., 1113 г., 1240 г.

Ответ: _____

Критерии оценивания: за каждый верный ответ - 4 балла, всего – 8 баллов.

Задание 5. Расположите события в хронологической последовательности.

5.1. А) женитьба Ивана III на Софье Палеолог; Б) провозглашение Карла Великого императором; В) крещение Руси; Г) начало войны Алой и Белой розы в Англии; Д) первое упоминание о Москве в летописи; Е) открытие Васко да Гамой морского пути в страны Востока.

5.2. А) начало Столетней войны; Б) Первый Крестовый поход; В) разделение христианской церкви на католическую и православную; Г) начало Реформации в Германии; Д) открытие Колумбом Америки; Е) кругосветное путешествие Магеллана.

Ответы:

5	1	2	3	4	5	6
5.1	Б ✓	В ✓	Д А ✓	А -	Г -	Е ✓
5.2	Б -	В -	А ✓	Г -	Д -	Е ✓

10.
25.

Критерии оценивания: за каждый верный ответ - 1 балл, за последовательность с одной ошибкой - 3 балла, если допущено более одной ошибки - 0 баллов, всего – 12 баллов.

Задание 6. Установите соответствие между событиями и древнерусскими князьями, в чье правление они произошли. К каждой позиции первого столбца подберите соответствующую позицию второго. В перечне справа есть лишняя характеристика.

События	Древнерусские князья
А) Восстание древлян;	1) Олег;
Б) Объединение Новгорода и Киева под властью одного князя;	2) Владимир Мономах;
В) Строительство Софийского собора в Киеве;	3) Ярослав Мудрый;
Г) Съезд князей в Любече;	4) Мстислав Великий;
	5) Игорь.

Ответы:

А ✓	Б -	В ✓	Г ✓
5	4	3	2

Критерии оценивания: за каждый верный ответ - 1 балл, всего – 4 балла.

35.

Задание 7. Заполните каждый пропуск, выбрав один из трёх вариантов.

Иван III вступил на престол в (1) (1444 году, 1462 году, 1497 году). В целях расширения территории своего княжества он предпринял поход в 1471 году на (2) (Новгород, Тверь, Рязань). Сражение произошло на реке (3) (Оке, Десне, Шелони).

Иван III успешно воевал с (4) (Литвой, Византией, Казанским ханством).

В (5) (1472 году, 1480 году, 1485 году) хан Ахмат вторгся в русские земли. Князь Иван III встретил его на реке (6) (Угре, Непрядве, Москве). Хан был вынужден отступить.

На печати великого князя московского появляется изображение (7) (леопарда, двуглавого орла, льва). На торжественных приемах его голову венчал великокняжеский головной убор (8) (тиара, шапка Казанская, шапка Мономаха). На всей территории

Русского государства начинает действовать изданный Иваном III свод законов – (9)
(Судебник, Русская Правда, кодекс Юстиниана)


Ответы:

1 ✓	2 ✓	3 —	4 —	5 —	6 ✓	7 ✓	8 ✓	9 —
2	1	2	2	3	1	2	3	2

55. Критерии оценивания: за каждый верный ответ - 1 балл, всего – 9 баллов.

Задание 8. Перед Вами изображения знаменитых памятников русской архитектуры XI - XV веков. Заполните таблицу: во вторую колонку таблицы запишите название изображённого архитектурного памятника, в третью колонку таблицы запишите имя правителя (князя, царя), при котором соответствующий памятник был создан.

А)




Б)



В)



Г)

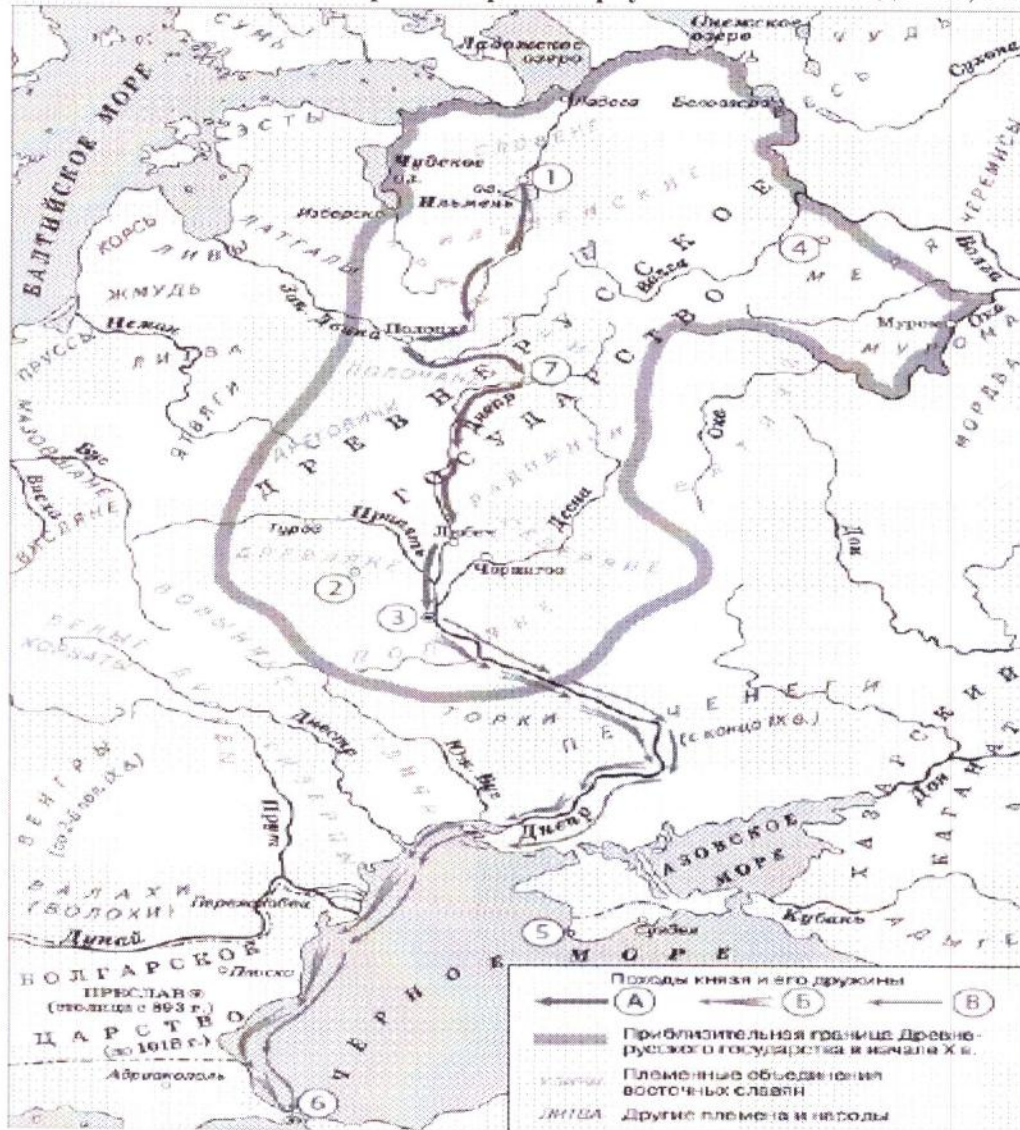


Ответ:

Буквенное обозначение	Название	Имя правителя (князя, царя)
А		
Б		
В		
Г		

Критерии оценивания: за каждый верный ответ - 1 балл, всего – 8 баллов.

Задание 9. Внимательно рассмотрите карту и выполните задания, помещённые ниже.



1) Напишите название восточнославянского племенного союза, который жил в районе истоков трёх крупных рек, впадающих в разные моря. Напишите название города, который был центром этого союза.

Ответы: Киевский Союз

Критерии оценивания: за каждый верный ответ - 2 балла, всего – 4 балла.

2) Напишите цифру, которой обозначен город, в котором, по преданию, княгиня Ольга приняла христианство.

Ответ: 4

Критерии оценивания: за верный ответ - 3 балла.

3) Напишите цифру, которой обозначен город, в котором погиб сын Рюрика. Укажите, в каком году это произошло. Какой была причина его гибели?

05. Ответы: 3 : 1174 г.

Критерии оценивания: за каждый верный ответ - 2 балла, всего - 6 баллов.

4) Верны ли представленные ниже утверждения («да» - «нет»)? Ответы внесите в таблицу.

1. На карте подписано название государства, разгромленного в 960-х гг. князем Святославом.

2. Река Дон была частью пути из варяг в греки.

3. В 1036 г. печенеги разгромили город, обозначенный на схеме цифрой 3.

4. Полочане являются одним из племенных объединений восточных славян.

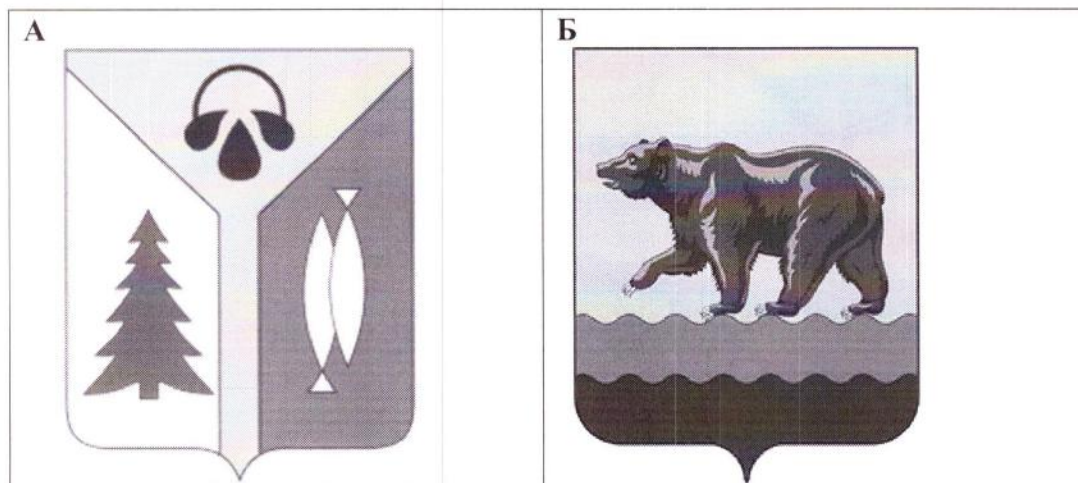
5. На карте подписано название озера, на льду которого произошло сражение новгородцев с крестоносцами в 1242 г.

Ответы:

1	2	3	4	5
—	✓	—	✓	—
нет	нет	да	да	нет

Критерии оценивания: за каждый верный ответ - 1 балл, всего - 5 баллов.


25. Задание 10. Выпишите букву, обозначающую герб города, название которого в переводе означает «рыбное место». В каком году был основан этот город, как он называется? Какие знаменитые люди в нем жили (живут)?



В



Г



Ответ: А

Критерии оценивания: за каждый верный ответ - 2 балла, всего – 6 баллов.

*Всероссийская олимпиада школьников по истории
2022/23 учебный год
Школьный этап*

Задания для участников 7-х классов

Инструкция по выполнению работ

Время на выполнение работы – 90 минут.

Максимальное количество баллов – 93.

Уважаемый участник!

При выполнении работы внимательно читайте текст заданий. Содержание ответа вписывайте в отведённые поля, записи ведите чётко и разборчиво.

За каждый правильный ответ Вы можете получить определённое членами жюри количество баллов, но не выше указанной максимальной оценки. Сумма набранных баллов за все решённые вопросы – итог Вашей работы.

Задания считаются выполненными, если Вы вовремя сдали их членам жюри.

Желаем успеха!

Шифр Ш12.И4.08

235

Задание 1. Выберите правильный ответ. Ответ внесите в таблицу.

1.1. Укажите название документа, в котором содержится данный закон.

«Кто опознает своего украденного холопа и задержит его, тому вести этого холопа до третьей очной ставки покупателя с продавцом; <...> про него нельзя сказать не знаю, у кого купил, но по его указаниям должно идти до последнего ответчика, – и когда будет найден настоящий вор, краденого холопа возвратит его хозяину, третьему ответчику взять своего холопа, а убытки ему плати уличенный в краже. А князю платить 12 гривен продажи (штрафа) за покражу холопа».

- | | |
|-----------------------|----------------------|
| 1) Русская Правда; | 2) Судебник 1497 г.; |
| 3) Салическая Правда; | 4) Законы Хаммурапи. |

1.2. В каком году произошли описанные события?

«Хочу вам, братья, поведать о новой победе в битве, как на Дону случилась брань великого князя Дмитрия Ивановича и всех православных христиан с поганым Мамаем и с безбожными язычниками. И возвысил Бог род христианский, а поганых унизил и посрамил их дикость, как и в старые времена помог Гедеону над мадиамлянами и преславному Моисею над фараоном...»

- | | | | |
|-------------|-------------|-------------|------------|
| 1) 1223 г.; | 2) 1238 г.; | 3) 1380 г.; | 4) 1480 г. |
|-------------|-------------|-------------|------------|

1.3. Кто является автором произведения, отрывок из которого приведён ниже?

«Кому, однако, как не Глупости, больше подобает явиться трубачом собственной славы и самой себе подыгрывать на флейте? Кто может лучше изобразить меня, нежели я сама? Разве что тот, кому я известна ближе, нежели себе самой!»

- | | |
|-----------------------|-------------------------|
| 1) Джованни Боккаччо; | 2) Эразм Роттердамский; |
| 3) Фома Аквинский; | 4) Данте Алигьери. |

1.4. Прочитайте текст и укажите, как называется произведение древнерусской литературы, в котором содержались приведенные сведения.

«Также и эти славяне пришли и сели по Днепру и назвались полянами, а другие – древлянами, потому что сели в лесах, а еще другие сели между Припятью и Двиною и назвались полочанами, по речке, впадающей в Двину, по имени Полота, от нее и получили название полочане. Те же славяне, которые сели около озера Ильмена, прозвались своим именем – славянами, и построили город, и назвали его Новгородом».

- | | |
|----------------------------------|----------------------------|
| 1) «Поучение детям»; | 2) «Житие Бориса и Глеба»; |
| 3) «Слово о Законе и Благодати»; | 4) «Повесть временных лет» |

1.5. Кто автор данного письма?

«Вы, король Англии, и вы, герцог Бедфордский, именующий себя регентом французского королевства, окажите справедливость королю неба: отдайте деве, посланной сюда Богом, небесным королём, ключи всех добрых городов, которые вы взяли и подвергли насилию во Франции. Она пришла сюда от Бога, чтобы потребовать обратно королевскую кровь...»

- 1) Жанна д'Арк; 2) Софья Палеолог;
3) Алиенора Аквитанская; 4) Матильда Каносская

Ответы:

1.1 ✓	1.2 ✓	1.3 —	1.4 ✓	— 1.5
1	3	2, 4	4	3

60 Критерии оценивания: за каждый верный ответ - 2 балла, всего - 10 баллов.

Задание 2. Выберите несколько правильных вариантов ответов на каждый поставленный вопрос. Ответ внесите в таблицу.

2.1. Кто из указанных деятелей культуры жил в эпоху Возрождения?

- 1) Данте Алигьери; 2) Леонардо да Винчи; 3) Сафоний Рязанец;
4) Франческо Петрарка; 5) Фидий; 6) Аристотель.

2.2. Какие из представленных ниже категорий населения, перечисленных в «Русской Правде», относятся к зависимым?

- 1) закупы; 2) рядовичи; 3) огнищане; 4) холопы; 5) люди; 6) бояре.

2.3. Выберите из предложенного перечня события, относящиеся к XIII в.

- 1) создание «Правды» Ярославичей; 2) Ледовое побоище;
3) первое летописное упоминание о Москве; 4) Невская битва;
5) съезд князей в Любече; 6) Битва на реке Сить.

Ответы:

2.1 15	2.2 15	2.3 15
1, 2, 3	2, 5, 9	2, 4, 9

35 Критерии оценивания: за каждый верный ответ - 3 балла, за ответ с одной ошибкой (не указан один из верных ответов или наряду с указанными всеми верными ответами приводится один неверный) - 1 балл, всего - 9 баллов.

Задание 3. Что с исторической точки зрения объединяет перечисленные в ряду элементы? Дайте максимально точный ответ.

3.1. Архангельский собор, церковь Ризоположения, Успенский собор, Грановитая палата

Ответ:

60 Все христианские.

3.2. 907 г., 911 г., 944 г., 971 г.

05 Ответ: X век.

3.3. 1478 г., 1485 г.; 1510 г., 1514 г.

05 Ответ:

Критерии оценивания: за каждый верный ответ - 3 балла, всего - 9 баллов.

Задание 4. Выберите лишний элемент из предложенного списка и поясните свой выбор.

4.1. 972–980 гг., 1015–1019 гг., 1073–1076 гг., 1113–1125 гг.

05 Ответ: 1073–1076 гг.

4.2. 1016 г., 1072 г., 1113 г., 1240 г.

Ответ: 1042 г.

05

Критерии оценивания: за каждый верный ответ - 4 балла, всего - 8 баллов.

Задание 5. Расположите события в хронологической последовательности.

5.1. А) женитьба Ивана III на Софье Палеолог; Б) провозглашение Карла Великого императором; В) крещение Руси; Г) начало войны Алой и Белой розы в Англии; Д) первое упоминание о Москве в летописи; Е) открытие Васко да Гамой морского пути в страны Востока.

5.2. А) начало Столетней войны; Б) Первый Крестовый поход; В) разделение христианской церкви на католическую и православную; Г) начало Реформации в Германии; Д) открытие Колумбом Америки; Е) кругосветное путешествие Магеллана.

Ответы:

5	1	2	3	4	5	6
5.1	А -	В +	Г -	Б -	А +	Е +
5.2	Б -	В -	А +	Г -	Е -	А -

35.

18.

Критерии оценивания: за каждый верный ответ - 1 балл, за последовательность с одной ошибкой - 3 балла, если допущено более одной ошибки - 0 баллов, всего - 12 баллов.

05

Задание 6. Установите соответствие между событиями и древнерусскими князьями, в чье правление они произошли. К каждой позиции первого столбца подберите соответствующую позицию второго. В перечне справа есть лишняя характеристика.

События	Древнерусские князья
А) Восстание древлян;	1) Олег;
Б) Объединение Новгорода и Киева под властью одного князя;	2) Владимир Мономах;
В) Строительство Софийского собора в Киеве;	3) Ярослав Мудрый;
Г) Съезд князей в Любече;	4) Мстислав Великий;
	5) Игорь.

Ответы:

А	Б	В	Г
1	3	2	4

Критерии оценивания: за каждый верный ответ - 1 балл, всего - 4 балла.

05

Задание 7. Заполните каждый пропуск, выбрав один из трёх вариантов.

Иван III вступил на престол в (1) (1444 году, 1462 году, 1497 году). В целях расширения территории своего княжества он предпринял поход в 1471 году на (2) (Новгород, Тверь, Рязань). Сражение произошло на реке (3) (Оке, Десне, Шелони).

Иван III успешно воевал с (4) (Литвой, Византией, Казанским ханством).

В (5) (1472 году, 1480 году, 1485 году) хан Ахмат вторгся в русские земли. Князь Иван III встретил его на реке (6) (Угре, Непрядве, Москве). Хан был вынужден отступить.

На печати великого князя московского появляется изображение (7) (леопарда, двуглавого орла, льва). На торжественных приемах его голову венчал великокняжеский головной убор (8) (тиара, шапка Казанская, шапка Мономаха). На всей территории

Русского государства начинает действовать изданный Иваном III свод законов – (9)
(Судебник, Русская Правда, кодекс Юстиниана)

Ответы:


1 ✓	2 ✓	3 —	4 —	5 —	6 —	7 ✓	8	✓ 9
1452 году (2)	Новгород (1)	Десне (2)	Византий (2)	1452 году (1)	Неправде (1)	Двуглавого орла (1)	Шапка Мономаха (2)	Русская правда (1)

55

Критерии оценивания: за каждый верный ответ - 1 балл, всего - 9 баллов.

Задание 8. Перед Вами изображения знаменитых памятников русской архитектуры XI - XV веков. Заполните таблицу: во вторую колонку таблицы запишите название изображённого архитектурного памятника, в третью колонку таблицы запишите имя правителя (князя, царя), при котором соответствующий памятник был создан.

А)




Б)



В)



Г)



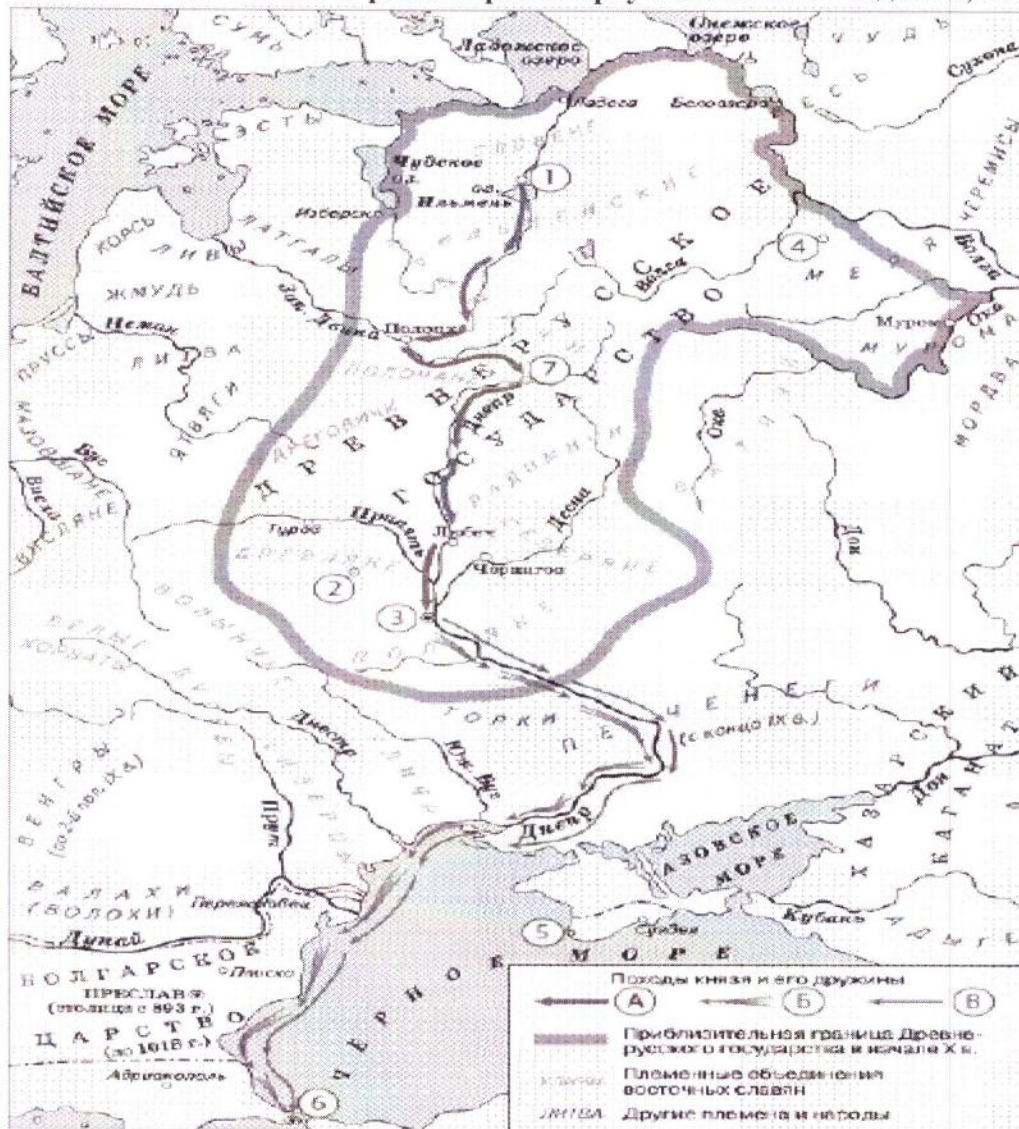
Ответ:

Буквенное обозначение	Название	Имя правителя (князя, царя)
А		
Б	Верный Посол	
В		
Г		

Критерии оценивания: за каждый верный ответ - 1 балл, всего - 8 баллов.

05

Задание 9. Внимательно рассмотрите карту и выполните задания, помещённые ниже.



1) Напишите название восточнославянского племенного союза, который жил в районе истоков трёх крупных рек, впадающих в разные моря. Напишите название города, который был центром этого союза.

Об. Ответы: Радичи

Критерии оценивания: за каждый верный ответ - 2 балла, всего - 4 балла.

2) Напишите цифру, которой обозначен город, в котором, по преданию, княгиня Ольга приняла христианство.

Об. Ответ: 3

Критерии оценивания: за верный ответ - 3 балла.

3) Напишите цифру, которой обозначен город, в котором погиб сын Рюрика. Укажите, в каком году это произошло. Какой была причина его гибели?

Ответы: _____

Критерии оценивания: за каждый верный ответ - 2 балла, всего – 6 баллов.

4) Верны ли представленные ниже утверждения («да» – «нет»)? Ответы внесите в таблицу.

1. На карте подписано название государства, разгромленного в 960-х гг. князем Святославом.

2. Река Дон была частью пути из варяг в греки.

3. В 1036 г. печенеги разгромили город, обозначенный на схеме цифрой 3.

4. Полочане являются одним из племенных объединений восточных славян.

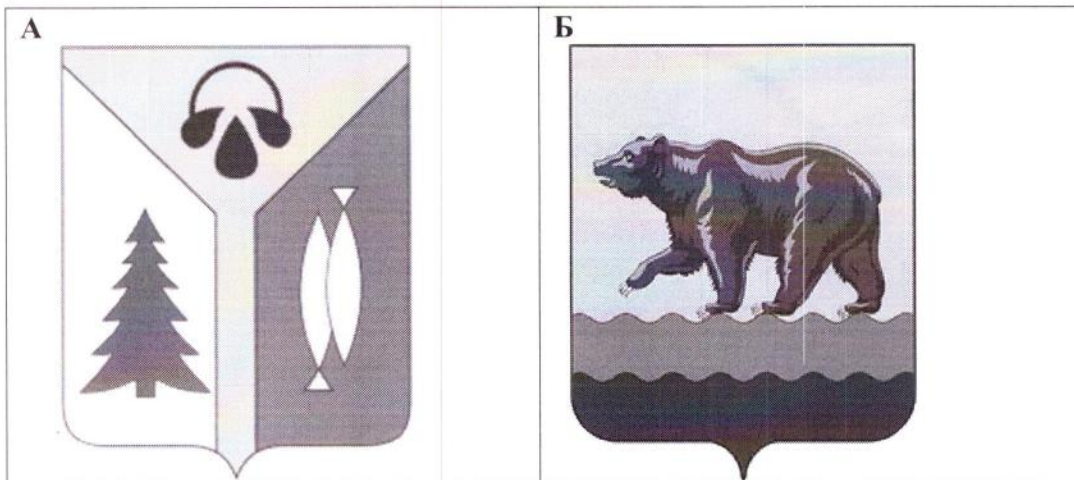
5. На карте подписано название озера, на льду которого произошло сражение новгородцев с крестоносцами в 1242 г.

Ответы:

1	—	2	—	3	✓	4	—	5	✓
нет		да		нет		нет		да	

Критерии оценивания: за каждый верный ответ - 1 балл, всего – 5 баллов.

Задание 10. Выпишите букву, обозначающую герб города, название которого в переводе означает «рыбное место». В каком году был основан этот город, как он называется? Какие знаменитые люди в нем жили (живут)?



В



Г



Ответ: Г, Вургут, касается, размещеностей у нас в городе нету, по крайней мере на карте так

Критерии оценивания: за каждый верный ответ - 2 балла, всего - 6 баллов.

15.

1.5. Кто автор данного письма?

«Вы, король Англии, и вы, герцог Бедфордский, именуящий себя регентом французского королевства, окажите справедливость королю неба: отдайте деве, посланной сюда Богом, небесным королём, ключи всех добрых городов, которые вы взяли и подвергли насилию во Франции. Она пришла сюда от Бога, чтобы потребовать обратно королевскую кровь...»

- ① Жанна д'Арк; 2) Софья Палеолог;
3) Алиенора Аквитанская; 4) Матильда Каносская

Ответы:

1.1 —	1.2 —	1.3 —	1.4 —	1.5 ✓
3	4	1	3	1

Критерии оценивания: за каждый верный ответ - 2 балла, всего - 10 баллов.

Задание 2. Выберите несколько правильных вариантов ответов на каждый поставленный вопрос. Ответ внесите в таблицу.

2.1. Кто из указанных деятелей культуры жил в эпоху Возрождения?

- 1) Данте Алигьери; 2) Леонардо да Винчи; 3) Сафоний Рязанец;
4) Франческо Петрарка; 5) Фидий; 6) Аристотель.

2.2. Какие из представленных ниже категорий населения, перечисленных в «Русской Правде», относятся к зависимым?

- 1) закупы; 2) рядовичи; 3) огнищане; 4) холопы; 5) люди; 6) бояре.

2.3. Выберите из предложенного перечня события, относящиеся к XIII в.

- 1) создание «Правды» Ярославичей; 2) Ледовое побоище;
3) первое летописное упоминание о Москве; 4) Невская битва;
5) съезд князей в Любече; 6) Битва на реке Сить.

Ответы:

2.1 16	2.2 06	2.3 16
2, 4, 5	2, 5, 6	2, 4, 1

Критерии оценивания: за каждый верный ответ - 3 балла, за ответ с одной ошибкой (не указан один из верных ответов или наряду с указанными всеми верными ответами приводится один неверный) - 1 балл, всего - 9 баллов.

Задание 3. Что с исторической точки зрения объединяет перечисленные в ряду элементы? Дайте максимально точный ответ.

3.1. Архангельский собор, церковь Ризоположения, Успенский собор, Грановитая палата

Ответ:

монархия

3.2. 907 г., 911 г., 944 г., 971 г.

Ответ:

3.3. 1478 г., 1485 г.; 1510 г., 1514 г.

Ответ:

Критерии оценивания: за каждый верный ответ - 3 балла, всего - 9 баллов.

Задание 4. Выберите лишний элемент из предложенного списка и поясните свой выбор.

4.1. 972-980 гг., 1015-1019 гг., 1073-1076 гг., 1113-1125 гг.

Ответ: 1113-1125 гг.

4.2. 1016 г., 1072 г., 1113 г., 1240 г.

Ответ: 1016

25.

Критерии оценивания: за каждый верный ответ - 4 балла, всего - 8 баллов.

Задание 5. Расположите события в хронологической последовательности.

5.1. А) женитьба Ивана III на Софье Палеолог; Б) провозглашение Карла Великого императором; В) крещение Руси; Г) начало войны Алой и Белой розы в Англии; Д) первое упоминание о Москве в летописи; Е) открытие Васко да Гамой морского пути в страны Востока.

5.2. А) начало Столетней войны; Б) Первый Крестовый поход; В) разделение христианской церкви на католическую и православную; Г) начало Реформации в Германии; Д) открытие Колумбом Америки; Е) кругосветное путешествие Магеллана.

Ответы:

5	1	2	3	4	5	6
5.1	Б ✓	Г -	А -	В -	Д -	Е ✓
5.2	Б ✓	А -	Г -	В -	Д -	Е ✓

Критерии оценивания: за каждый верный ответ - 1 балл, за последовательность с одной ошибкой - 3 балла, если допущено более одной ошибки - 0 баллов, всего - 12 баллов.

25
25.

Задание 6. Установите соответствие между событиями и древнерусскими князьями, в чье правление они произошли. К каждой позиции первого столбца подберите соответствующую позицию второго. В перечне справа есть лишняя характеристика.

События	Древнерусские князья
А) Восстание древлян;	1) Олег;
Б) Объединение Новгорода и Киева под властью одного князя;	2) Владимир Мономах;
В) Строительство Софийского собора в Киеве;	3) Ярослав Мудрый;
Г) Съезд князей в Любече;	4) Мстислав Великий;
	5) Игорь.

Ответы:

А	Б	В	Г
4	1 ✓	3 ✓	5 -

Критерии оценивания: за каждый верный ответ - 1 балл, всего - 4 балла.

25.

Задание 7. Заполните каждый пропуск, выбрав один из трёх вариантов.

Иван III вступил на престол в (1) (1444 году, 1462 году, 1497 году). В целях расширения территории своего княжества он предпринял поход в 1471 году на (2) (Новгород, Тверь, Рязань). Сражение произошло на реке (3) (Оке, Десне, Шелони).

Иван III успешно воевал с (4) (Литвой, Византией, Казанским ханством).

В (5) (1472 году, 1480 году, 1485 году) хан Ахмат вторгся в русские земли. Князь Иван III встретил его на реке (6) (Угре, Непрядве, Москве). Хан был вынужден отступить.

На печати великого князя московского появляется изображение (7) (леопарда, двуглавого орла, льва). На торжественных приемах его голову венчал великокняжеский головной убор (8) (тиара, шапка Казанская, шапка Мономаха). На всей территории

Русского государства начинает действовать изданный Иваном III свод законов – (9)
(Судебник, Русская Правда, кодекс Юстиниана)


Ответы:

1 ✓	2 –	3 –	4 –	5 ✓	6 –	7 ✓	8 ✓	9 –
1402	1402 3	1	3	2	3	2	3	2

46. Критерии оценивания: за каждый верный ответ – 1 балл, всего – 9 баллов.

Задание 8. Перед Вами изображения знаменитых памятников русской архитектуры XI - XV веков. Заполните таблицу: во вторую колонку таблицы запишите название изображённого архитектурного памятника, в третью колонку таблицы запишите имя правителя (князя, царя), при котором соответствующий памятник был создан.

А)




Б)



В)



Г)



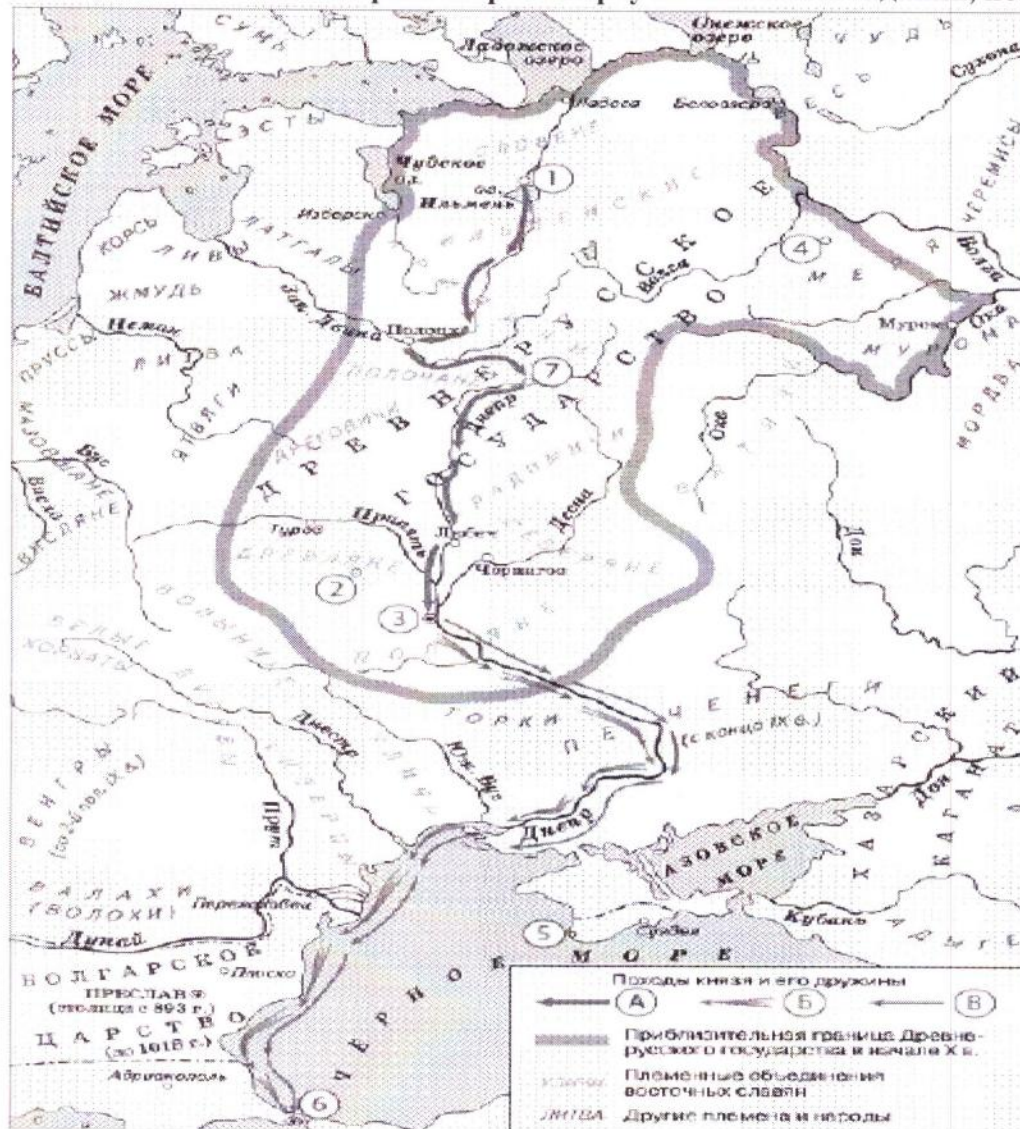
Ответ:

Буквенное обозначение	Название	Имя правителя (князя, царя)
А	архангельский собор	Ярослав мудрый
Б	успенский собор	Алек.
В	собор ^{церковь} Ризоположения	Мстислав Мудрый
Г	гранитовая [↑] _↓ плита.	Игорь

Критерии оценивания: за каждый верный ответ - 1 балл, всего - 8 баллов.

об.

Задание 9. Внимательно рассмотрите карту и выполните задания, помещённые ниже.



1) Напишите название восточнославянского племенного союза, который жил в районе истоков трёх крупных рек, впадающих в разные моря. Напишите название города, который был центром этого союза.

— Ответы: Величарское царство, Преславия

Критерии оценивания: за каждый верный ответ - 2 балла, всего - 4 балла.

2) Напишите цифру, которой обозначен город, в котором, по преданию, княгиня Ольга приняла христианство.

— Ответ: 2

Критерии оценивания: за верный ответ - 3 балла.

3) Напишите цифру, которой обозначен город, в котором погиб сын Рюрика. Укажите, в каком году это произошло. Какой была причина его гибели?

✓ **Ответы:** 7

Критерии оценивания: за каждый верный ответ - 2 балла, всего - 6 баллов.

4) Верны ли представленные ниже утверждения («да» - «нет»)? Ответы внесите в таблицу.

1. На карте подписано название государства, разгромленного в 960-х гг. князем Святославом.

2. Река Дон была частью пути из варяг в греки.

3. В 1036 г. печенеги разгромили город, обозначенный на схеме цифрой 3.

4. Полочане являются одним из племенных объединений восточных славян.

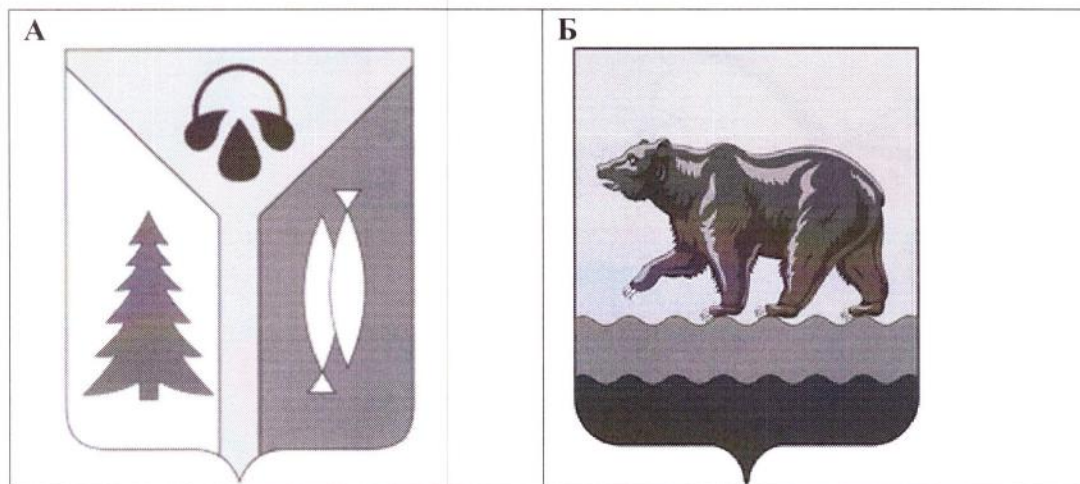
5. На карте подписано название озера, на льду которого произошло сражение новгородцев с крестоносцами в 1242 г.

Ответы:

1	—	2	—	3	✓	4	✓	5	✓
	нет		да		нет		да		да

Критерии оценивания: за каждый верный ответ - 1 балл, всего - 5 баллов.


35 **Задание 10. Выпишите букву, обозначающую герб города, название которого в переводе означает «рыбное место». В каком году был основан этот город, как он называется? Какие знаменитые люди в нем жили (живут)?**



В



Г



Ответ: А

Критерии оценивания: за каждый верный ответ - 2 балла, всего – 6 баллов.

1.5. Кто автор данного письма?

«Вы, король Англии, и вы, герцог Бедфордский, именующий себя регентом французского королевства, окажите справедливость королю неба: отдайте деве, посланной сюда Богом, небесным королём, ключи всех добрых городов, которые вы взяли и подвергли насилию во Франции. Она пришла сюда от Бога, чтобы потребовать обратно королевскую кровь...»

- 1) Жанна д'Арк; 2) Софья Палеолог;
3) Алиенора Аквитанская; 4) Матильда Каносская

Ответы:

1.1	+	1.2	✓	1.3	-	1.4	✓	1.5	✓
4		3				4		1	

Критерии оценивания: за каждый верный ответ - 2 балла, всего - 10 баллов.

Задание 2. Выберите несколько правильных вариантов ответов на каждый поставленный вопрос. Ответ внесите в таблицу.

2.1. Кто из указанных деятелей культуры жил в эпоху Возрождения?

- 1) Данте Алигьери; 2) Леонардо да Винчи; 3) Сафоний Рязанец;
4) Франческо Петрарка; 5) Фидий; 6) Аристотель.

2.2. Какие из представленных ниже категорий населения, перечисленных в «Русской Правде», относятся к зависимым?

- 1) закупы; 2) рядовичи; 3) огнищане; 4) холопы; 5) люди; 6) бояре.

2.3. Выберите из предложенного перечня события, относящиеся к XIII в.

- 1) создание «Правды» Ярославичей; 2) Ледовое побоище;
3) первое летописное упоминание о Москве; 4) Невская битва;
5) съезд князей в Любече; 6) Битва на реке Сить.

Ответы:

2.1	2.2	2.3
6, 1, 2	1, 3, 6	2, 4, 1

Критерии оценивания: за каждый верный ответ - 3 балла, за ответ с одной ошибкой (не указан один из верных ответов или наряду с указанными всеми верными ответами приводится один неверный) - 1 балл, всего - 9 баллов.

Задание 3. Что с исторической точки зрения объединяет перечисленные в ряду элементы? Дайте максимально точный ответ.

3.1. Архангельский собор, церковь Ризоположения, Успенский собор, Грановитая палата

Ответ:

Это все древнерусские церкви и соборы.

3.2. 907 г., 911 г., 944 г., 971 г.

Ответ:

3.3. 1478 г., 1485 г.; 1510 г., 1514 г.

Ответ:

Критерии оценивания: за каждый верный ответ - 3 балла, всего - 9 баллов.

Задание 4. Выберите лишний элемент из предложенного списка и поясните свой выбор.

4.1. 972-980 гг., 1015-1019 гг., 1073-1076 гг., 1113-1125 гг.

Ответ:

4.2. 1016 г., 1072 г., 1113 г., 1240 г.

Ответ: 1113

Критерии оценивания: за каждый верный ответ - 4 балла, всего - 8 баллов.

Задание 5. Расположите события в хронологической последовательности.

5.1. А) женитьба Ивана III на Софье Палеолог; Б) провозглашение Карла Великого императором; В) крещение Руси; Г) начало войны Алой и Белой розы в Англии; Д) первое упоминание о Москве в летописи; Е) открытие Васко да Гамой морского пути в страны Востока.

5.2. А) начало Столетней войны; Б) Первый Крестовый поход; В) разделение христианской церкви на католическую и православную; Г) начало Реформации в Германии; Д) открытие Колумбом Америки; Е) кругосветное путешествие Магеллана.

Ответы:

5	1	2	3	4	5	6
5.1	В	А Б	Д	Д	Г	Е ✓
5.2	Б	Д	В	Г	Е	А Д ✓

Критерии оценивания: за каждый верный ответ - 1 балл, за последовательность с одной ошибкой - 3 балла, если допущено более одной ошибки - 0 баллов, всего - 12 баллов.

Задание 6. Установите соответствие между событиями и древнерусскими князьями, в чье правление они произошли. К каждой позиции первого столбца подберите соответствующую позицию второго. В перечне справа есть лишняя характеристика.

События	Древнерусские князья
А) Восстание древлян;	1) Олег;
Б) Объединение Новгорода и Киева под властью одного князя;	2) Владимир Мономах;
В) Строительство Софийского собора в Киеве;	3) Ярослав Мудрый;
Г) Съезд князей в Любече;	4) Мстислав Великий;
	5) Игорь.

Ответы:

А	В	Б	Г
---	---	---	---

Критерии оценивания: за каждый верный ответ - 1 балл, всего - 4 балла.

Задание 7. Заполните каждый пропуск, выбрав один из трёх вариантов.

Иван III вступил на престол в (1) (1444 году, 1462 году, 1497 году). В целях расширения территории своего княжества он предпринял поход в 1471 году на (2) (Новгород, Тверь, Рязань). Сражение произошло на реке (3) (Оке, Десне, Шелони).

Иван III успешно воевал с (4) (Литвой, Византией, Казанским ханством).

В (5) (1472 году, 1480 году, 1485 году) хан Ахмат вторгся в русские земли. Князь Иван III встретил его на реке (6) (Угре, Непрядве, Москве). Хан был вынужден отступить.

На печати великого князя московского появляется изображение (7) (леопарда, двуглавого орла, льва). На торжественных приемах его голову венчал великокняжеский головной убор (8) (тиара, шапка Казанская, шапка Мономаха). На всей территории

Русского государства начинает действовать изданный Иваном III свод законов – (9)
(Судебник, Русская Правда, кодекс Юстиниана)


Ответы:

1 –	2 ✓	3 –	4 –	5 ✓	6 ✓	7 ✓	8 –	9 –
Исаия	Новгород	Рески	Византия	1480	узоре	двухглавый вою орна	Тиара	Русская правда

Критерии оценивания: за каждый верный ответ - 1 балл, всего – 9 баллов.

Задание 8. Перед Вами изображения знаменитых памятников русской архитектуры XI - XV веков. Заполните таблицу: во вторую колонку таблицы запишите название изображённого архитектурного памятника, в третью колонку таблицы запишите имя правителя (князя, царя), при котором соответствующий памятник был создан.

А)




Б)



В)



Г)

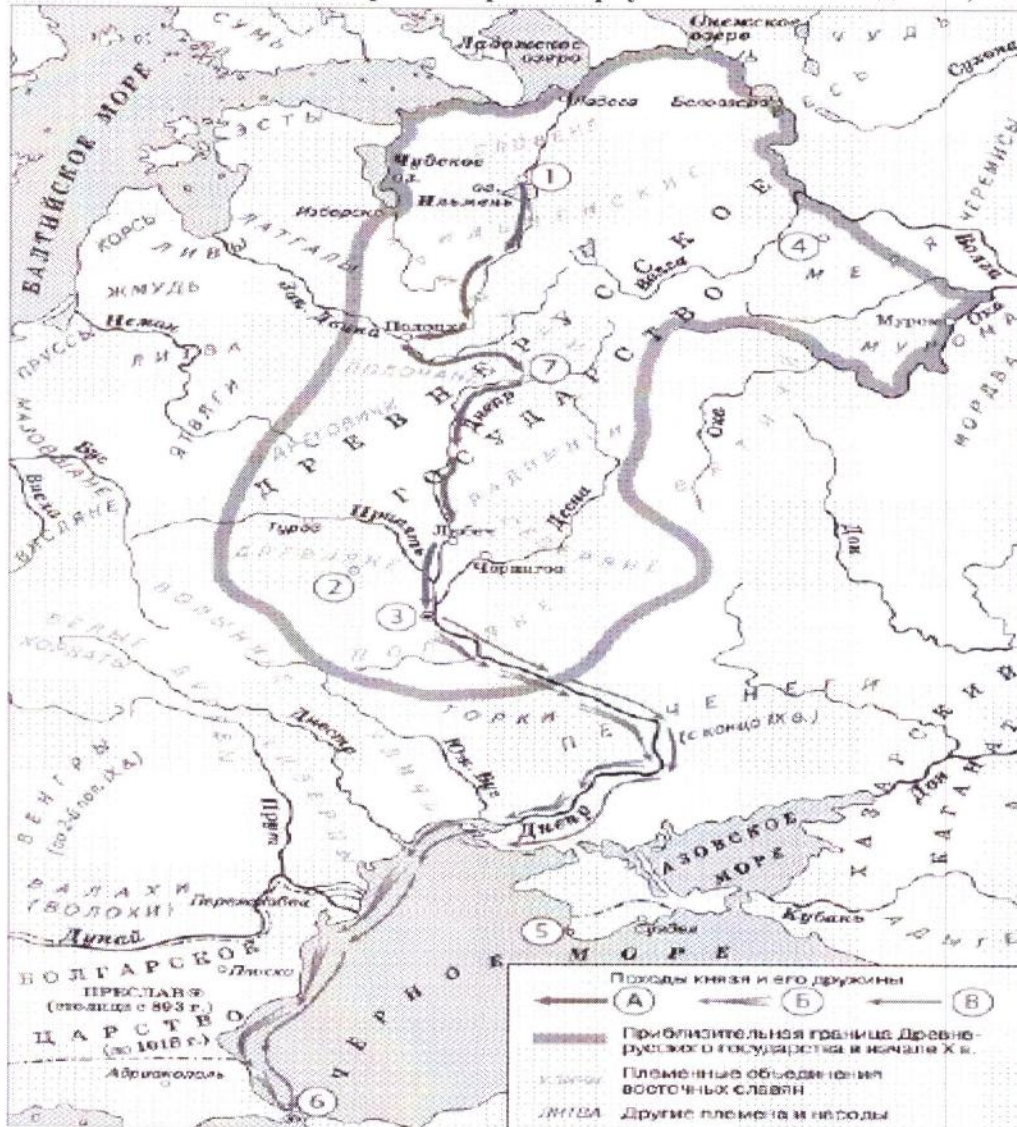


Ответ:

Буквенное обозначение	Название	Имя правителя (князя, царя)
А	Червень на Руге	Иван III
Б		
В	первое христианское червьово.	Константин I
Г		

Критерии оценивания: за каждый верный ответ - 1 балл, всего - 8 баллов.

Задание 9. Внимательно рассмотрите карту и выполните задания, помещённые ниже.



1) Напишите название восточнославянского племенного союза, который жил в районе истоков трёх крупных рек, впадающих в разные моря. Напишите название города, который был центром этого союза.

об. Ответы: Славяне

Критерии оценивания: за каждый верный ответ - 2 балла, всего - 4 балла.

2) Напишите цифру, которой обозначен город, в котором, по преданию, княгиня Ольга приняла христианство.

об. Ответ: 7

Критерии оценивания: за верный ответ - 3 балла.

3) Напишите цифру, которой обозначен город, в котором погиб сын Рюрика. Укажите, в каком году это произошло. Какой была причина его гибели?

Ответы: 4

Критерии оценивания: за каждый верный ответ - 2 балла, всего - 6 баллов.

4) Верны ли представленные ниже утверждения («да» - «нет»)? Ответы внесите в таблицу.

1. На карте подписано название государства, разгромленного в 960-х гг. князем Святославом.

2. Река Дон была частью пути из варяг в греки.

3. В 1036 г. печенеги разгромили город, обозначенный на схеме цифрой 3.

4. Полочане являются одним из племенных объединений восточных славян.

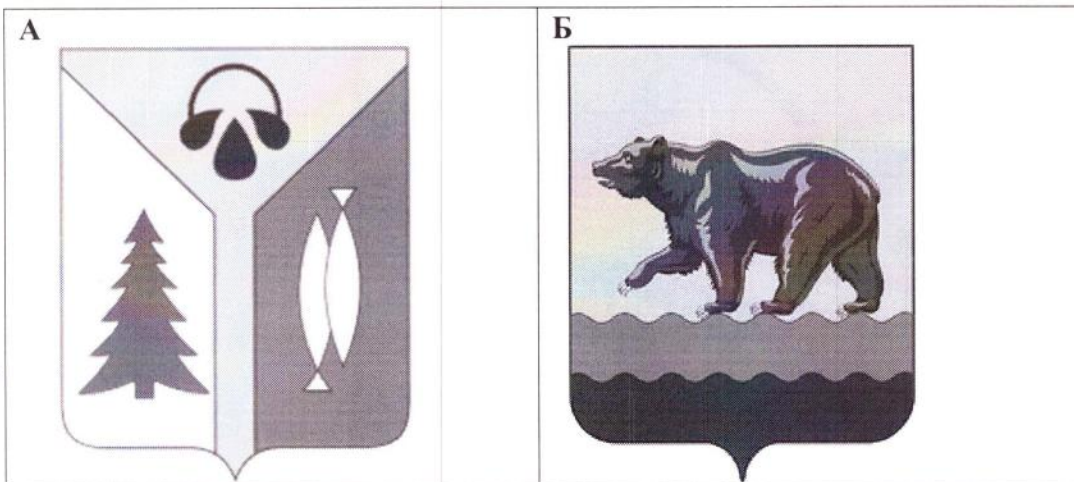
5. На карте подписано название озера, на льду которого произошло сражение новгородцев с крестоносцами в 1242 г.

Ответы:

1	2	3	4	5
Нет	Да	Да	Нет	Да

Критерии оценивания: за каждый верный ответ - 1 балл, всего - 5 баллов.

Задание 10. Выпишите букву, обозначающую герб города, название которого в переводе означает «рыбное место». В каком году был основан этот город, как он называется? Какие знаменитые люди в нем жили (живут)?



В



Г



Ответ:



Критерии оценивания: за каждый верный ответ - 2 балла, всего – 6 баллов.